

◆時間についての問題です。 月 日 () 名前

(1) () の中を埋めましょう。


1年 は () ヶ月 です。 1 ヶ月 は () 日 です。

1日 は () 時間 です。 1 時間 は () 分間 です。


1 分間 は () 秒間 です。

(2) 文字盤に「短針」と「長針」を記入しましょう。


ア 3時00分




イ 6時45分



ウ 17時33分



エ 0時半



(3) 文章を読んで答えましょう。

① III類型は 8 時 45 分から SHR が始まります。

自宅から学校までは 36 分かかります。

自宅を何時に出ればよいですか？

② 仕事が始まるのは 9 時です。

仕事が終わるのは 16 時です。

仕事は何時間ですか？

③ 会社に 8 時 45 分までに出勤しなければなりません。

自宅の最寄り駅までは徒歩で 5 分かかります。

乗車時間は 25 分です。

駅から会社までは徒歩で 10 分かかります。

10 分前に到着するには自宅を何時に出ればよいですか？

◆ お金についての問題です。

(1) 1000 円札 2 枚と 100 円玉 4 枚、50 円 2 枚でいくらですか？

(2) 630 円の商品を買いました。

1000 円払うとおつりはいくらですか？

(3) 毎月おこづかいを 2000 円もらっています。

3 ヶ月ためるといくらになりますか？

(4) 毎月おこづかいを 1500 円もらっています。

1 年間貯金をするといくらになりますか？

(5) ジュース 1 本 120 円です。4 本でいくらですか？

(6) りんご 2 個とみかん 3 個を買ったら 540 円でした。

りんご 3 個とみかん 2 個を買ったら 610 円でした。

りんご 1 個の値段はいくらですか？

(7) 時給 840 円のアルバイトを始めました。

1 日に 6 時間働くといくらもらえますか？

(8) あるお店の給料は時給 850 円です。

1 日に 6 時間、1 ヶ月 20 日働くとすると

1 ヶ月の給料はいくらになりますか？

(9) バナナ 2 本、なし 3 個、ぶどう 1 房買うと 890 円。

バナナ 3 本、なし 1 個、ぶどう 2 房買うと 1040 円。

バナナ 1 本、なし 2 個、ぶどう 3 房買うと 1310 円です。

それぞれの値段はいくらですか？